


Digitaal klokkijken



De oefeningen in dit werkboekje gaan over:

Hele uren

Halve uren

Kwartieren

Minuten

De oefeningen in dit werkboekje gaan over zelf de cijfers in de digitale klok noteren.



Werken aan Rekenen

www.werkenaanrekenen.nl




Schrijf jouw antwoord in de klokken




4 uur 's nachts



8 uur 's ochtends



6 uur 's avonds



12 uur s' middags



9 uur 's ochtends



2 uur 's nachts



11 uur 's ochtends



7 uur 's avonds




Schrijf jouw antwoord in de klokken

1A


1P

1F


Werken aan Rekenen




1 uur 's nachts



10 uur 's avonds




3 uur 's middags




5 uur 's nachts



8 uur 's avonds



4 uur 's middags



12 uur 's nachts



9 uur 's avonds




Schrijf jouw antwoord in de klokken

1A


1P

1F


Werken aan Rekenen




1 uur 's middags




3 uur 's nachts




5 uur 's middags



6 uur 's ochtends



2 uur 's middags



7 uur 's nachts



10 uur 's ochtends



11 uur 's avonds




Schrijf jouw antwoord in de klokken

1A


1P

1F

Werken aan Rekenen



Half 3 's nachts



Half 12 's ochtends



Half 9 's ochtends



Half 5 's middags




Half 1 's nachts



Half 6 's ochtends



Half 10 's ochtends



Half 8 's avonds



Schrijf jouw antwoord in de klokken

1A


1P

1F


Werken aan Rekenen



Half 7 's ochtends



Half 11 's avonds



Half 2 's nachts



Half 4 's middags



Half 1 's middags



Half 9 's avonds



Half 5 's nachts



Half 11 's ochtends




Schrijf jouw antwoord in de klokken

1A


1P

1F


Werken aan Rekenen



Half 2 's middags



Half 4 's nachts



Half 10 's avonds



Half 3 's middags



Half 8 's ochtends



Half 6 's avonds



Half 12 's nachts



Half 7 's avonds



Schrijf jouw antwoord in de klokken

1A


1P

1F


Werken aan Rekenen



Kwart over 12 s'middags



Kwart over 9 s'avonds



Kwart over 1 's nachts



Kwart over 5 's middags



Kwart over 3 's nachts



Kwart over 10 's ochtends



Kwart over 2 's nachts



Kwart over 4 's middags




Schrijf jouw antwoord in de klokken

1A


1P

1F


Werken aan Rekenen



Kwart over 7 's avonds



Kwart over 11 's ochtends



Kwart over 6 's avonds



Kwart over 8 's ochtends



Kwart over 3 's middags



Kwart over 11 's avonds



Kwart over 9 's ochtends



Kwart over 5 's nachts




Schrijf jouw antwoord in de klokken

1A


1P

1F

Werken aan Rekenen



Kwart over 1 's middags



Kwart over 10 's nachts



Kwart over 4 's nachts



Kwart over 7 's ochtends



Kwart over 2 's middags



Kwart over 6 's ochtends



Kwart over 12 's nachts



Kwart over 8 's avonds




Schrijf jouw antwoord in de klokken

1A


1P

1F


Werken aan Rekenen



Kwart voor 7 's avonds



Kwart voor 4 's middags




Kwart voor 8 's avonds



Kwart voor 10 's ochtends



Kwart voor 1 's middags



Kwart voor 3 's nachts



Kwart voor 11 's avonds



Kwart voor 9 's ochtends




Schrijf jouw antwoord in de klokken

1A


1P

1F


Werken aan Rekenen



Kwart voor 6 's avonds



Kwart voor 2 's middags



Kwart voor 4 's nachts



Kwart voor 5 's nachts



Kwart voor 12 's middags



Kwart voor 3 's middags



Kwart voor 11 's ochtends



Kwart voor 9 's avonds




Schrijf jouw antwoord in de klokken

1A


1P

1F

Werken aan Rekenen



Kwart voor 7 's ochtends



Kwart voor 10 's avonds



Kwart voor 8 's ochtends



Kwart voor 2 's nachts



Kwart voor 5 's middags



Kwart voor 1 's nachts



Kwart voor 12 's nachts



Kwart voor 6 's ochtends



Schrijf jouw antwoord in de klokken

1A


1P

1F


Werken aan Rekenen



10 over 7 's avonds



5 over half 12 s'ochtends



5 voor half 3 's middags



10 voor 9 's avonds



5 over 11 's ochtends



10 voor half 2 's nachts



10 voor 8 's avonds



10 over half 12 's avonds




Schrijf jouw antwoord in de klokken

1A


1P

1F

Werken aan Rekenen



7 over 10 's avonds



13 minuten voor 5 's middags



2 voor half 9 's ochtends



2 over 5 's nachts



6 voor 6 's middags



11 over half 9 's nachts



3 voor half 11 's avonds



9 over 10 's ochtends




Schrijf jouw antwoord in de klokken

1A

1P

1F


Werken aan Rekenen



12 minuten voor 4 's nachts



8 voor half 8 's ochtends



1 over half 7 's avonds



6 over 3 's middags



9 over half 1 's middags



12 voor 12 's avonds



4 voor half 2 's nachts



6 over 9 's avonds
